

ŽUPANIJSKO NATJECANJE IZ POVIJESTI

SKUPINA: SEDMI RAZRED

ŠKOLSKA GODINA: 2014. / 2015.

petak, 6. ožujka 2015. godine

10:00 – 11:00 sati

ZAPORKA: _____

OIB: _____

BROJ BODOVA:

50	
----	--

POSTOTAK RIJEŠENOSTI ISPITA: _____

ČLANOVI PROSUDBENOG POVJERENSTVA:

1. _____

2. _____

3. _____

(MJESTO I NADNEVAK)

NAPUTCI:

1. Imate 60 minuta za rješavanje ispita.
2. Odgovore u ispitu upisujete na za to predviđena mjesta. Ispred svake skupine zadataka nalazi se uputa za njihovo rješavanje. Pozorno ju pročitajte.
3. Ispit pišite plavom ili crnom kemijskom olovkom. Pišite čitko. Nečitki odgovori bodovat će se s 0 bodova.
4. Osobna imena i prezimena te geografska imena pišite izvorno prema udžbenicima odobrenim od MZOS-a u školskoj godini 2014./2015.
5. Jednom napisane odgovore nije dopušteno prepravljati.
6. Možete koristiti list za koncept tijekom rješavanja ispita. List za koncept predviđen je kao pomoćni list i on se neće bodovati. U omotnici zajedno s ispitom predajete i list za koncept.
7. Želimo Vam mnogo uspjeha!

I. U zadatcima koji slijede samo je jedan odgovor točan.

Zaokružite slovo ispred točnoga odgovora.

1. Koje godine je Hrvatski sabor prenio dio svojih ovlasti na Ugarsku?

1	
---	--

- A. 1790.
- B. 1797.
- C. 1808.
- D. 1814.

2. Kome su pripale Venecija, Dalmacija i Istra nakon „bitke trojice careva“ tijekom Napoleonovih ratova?

1	
---	--

- A. Austriji
- B. Francuskoj
- C. Pijemontu
- D. Pruskoj

3. S kojim je hrvatskim gradom Karlovac bio povezan Karolinskom cestom?

1	
---	--

- A. Bakrom
- B. Karlobagom
- C. Rijekom
- D. Senjom



4. Kako se nazivala vladarica prikazana na slici?

- A. Katarina II.
- B. Marija Antoaneta
- C. Marija Terezija
- D. Viktorija

1	
---	--

5. U kojem gradu je zasjedao Ugarsko-hrvatski sabor u prvoj polovici 19. stoljeća?

- A. Budimu
- B. Pákozdu
- C. Pešti
- D. Požunu

1	
---	--



6. Tijekom kojeg događaja nastaje prikazani grb?

- A. hrvatskog narodnog preporoda
- B. nastanka Ilirskih pokrajina
- C. nastanka Kraljevine Ilirije
- D. Proljeća naroda

1	
---	--



7. Kakvim idejama je prožeto književno djelo čija je naslovnica prikazana?

- A. anarhističkim
- B. konzervativnim
- C. prosvjetiteljskim
- D. romantičarskim

1	
---	--

8. Kakav pokušaj je uzrokovao Burske ratove?

- A. britanski, zauzimanja Južne Afrike
- B. francuski, zauzimanja Palestine
- C. habsburški, zauzimanja Pijemonta
- D. ruski, zauzimanja Mandžurije

1	
---	--

9. Tko se smatra začetnikom tzv. narodnog stila u hrvatskoj glazbi ?

1	
---	--

- A. Dimitrije Demeter
- B. Ferdo Livadić
- C. Josip Runjanin
- D. Vatroslav Lisinski

II. U sljedećim zadacima povežite međusobno srodne sadržaje. Upišite slovo iz lijevog stupca na odgovarajuću crtu ispred broja u desnom stupcu. Tri crte su višak.

10. Povežite pojmove s njihovim objašnjenjima.

3	
---	--

- A aneksija _____ 1 politika podčinjavanja i iskorištavanja drugih zemalja
- B barikada _____ 2 gospodarski sustav temeljen na zajedničkom vlasništvu
- C imperijalizam _____ 3 jednostrano pripajanje teritorija od strane susjedne države
_____ 4 nasilno preuzimanje vlasti uz uporabu vojne sile
_____ 5 politička nezavisnost, samostalnost, samouprava
_____ 6 zapreka od priručnog materijala tijekom uličnih borbi

11. Povežite osobe sa zemljom iz koje dolaze.

3	
---	--

- A Francisco de Goya _____ 1 Austrija
- B Fryderyk Chopin _____ 2 Češka
- C Petar Iljič Čajkovski _____ 3 Francuska
_____ 4 Poljska
_____ 5 Rusija
_____ 6 Španjolska

III. U sljedećim zadacima odgovorite na pitanja kratkim odgovorima.

12. Kako se zvala (ime i prezime) osoba koja je bila nositelj konzervativizma u Habsburškoj Monarhiji u prvoj polovici 19. stoljeća?

1	
---	--

13. Kako se nazivao (ime i prezime) prvi vojni upravitelj Bosne i Hercegovine nakon Berlinskog kongresa? _____

1	
---	--

14. Kako se nazivala vlast koja je izdala dokument čiji se dijelovi nalaze u sljedećem tekstu?

„Kao sumnjivi ljudi smatraju se:

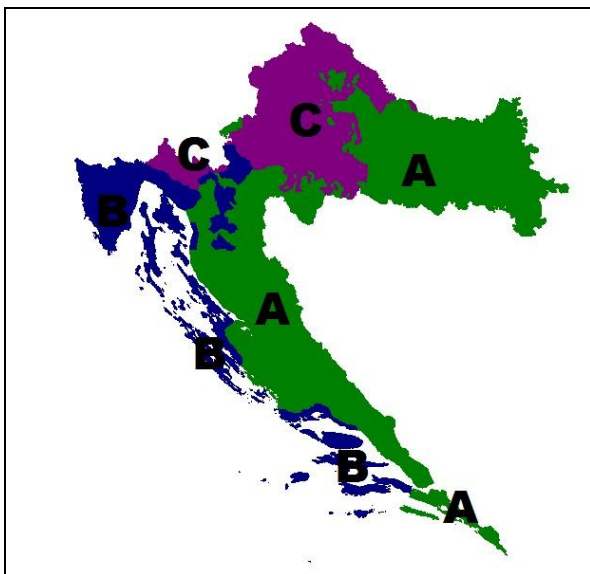
1. koji su se svojim ponašanjem, vezama, usmenim ili pismenim izjavama pokazali kao pristalice tiranije ili federalizma, ma neprijatelji slobode;
2. koji ne budu mogli opravdati svoje prihode i kako su stekli svoje građanske dužnosti; (...)
5. bivši plemići, i to muževi i žene, očevi i majke, sinovi, kćeri, braća i sestre, i agenti emigranata koji nisu bez prekida očitovali svoju privrženost revoluciji...“

1	
---	--

15. Kako se naziva umjetnički pravac koji je opisan u sljedećem tekstu?

„... je naglasak stavljao na iracionalno: strasti, natprirodne i paranormalne pojave, bol i patnju, ludost i smrt. ... (pripadnici tog pravca) ...s užitkom su strepili pred neobuzdanom snagom prirode: pred golemom snagom oluja i slapova, veličinom planina, mrtvilom pustinja, samoćom mora.“

1	
---	--



16. Kojim hrvatskim narječjem (upiši slovo s područja rasprostranjenosti i naziv narječja) je pisana Draškovićevo Disertacija?

1	
---	--


17. Kako je prema prijedlogu Hrvatskoga sabora iz 1848. godine trebala biti organizirana Habsburška Monarhija? _____

1	
---	--



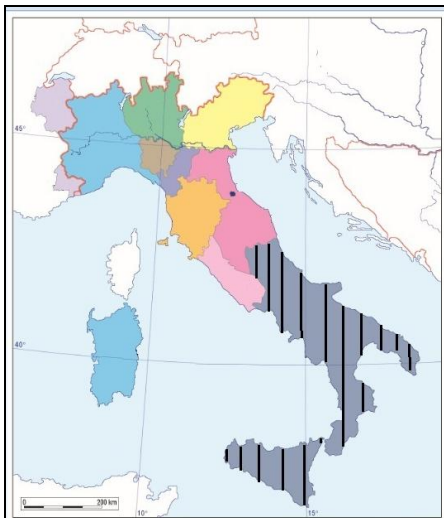
18. Kako se zvao (ime i prezime) prikazani francuski vojskovođa s prijelaza iz 18. u 19. stoljeće?

1	
---	--



19. Kako se nazivalo razdoblje hrvatske povijesti kojeg umjetnički prikazuje slika?

1	
---	--



20. Kako se nazivala okomitim crnim crtama označena država u vrijeme ujedinjenja Italije?

1	
---	--

IV. U sljedećim zadacima poredajte kronološki navedene sadržaje.

Upišite redne brojeve od 1 (najstariji) do 5 (najmlađi) na praznu crtu iza slova.

21. Poredajte kronološki navedene događaje.

2	
---	--

- A. _____ Francuska postaje Treća Republika
- B. _____ mir u San Stefanu
- C. _____ Papinska Država priključena Italiji
- D. _____ proglašena Pariška komuna

22. Poredajte kronološki osnivanje navedenih hrvatskih ustanova.

2	
---	--

- A. _____ Hrvatsko kraljevsko vijeće
- B. _____ Kraljevska akademija u Zagrebu
- C. _____ Matica ilirska
- D. _____ Narodni zemaljski muzej

23. Poredaj kronološki navedene događaje.

2	
---	--

- A. _____ ban Josip Jelačić objavio rat ugarskoj vladi
- B. _____ nametnuti (oktroirani) ustav kralja Franje Josipa I.
- C. _____ prvo zasjedanje Hrvatskoga zastupničkoga sabora
- D. _____ ugarski parlament proglasio odcjepljenje Ugarske od Austrije

24. Zaokružite slovo ispred točnog kronološkog slijeda navedenih događaja.

1	
---	--

- A. utemeljeno Kraljevsko vijeće za Dalmaciju, Hrvatsku i Slavoniju \implies donesen Patent o vjerskoj snošljivosti \implies ukinuta Mletačka Republika \implies rat za austrijsko nasljedstvo
- B. rat za austrijsko nasljedstvo \implies utemeljeno Kraljevsko vijeće za Dalmaciju, Hrvatsku i Slavoniju \implies donesen Patent o vjerskoj snošljivosti \implies ukinuta Mletačka Republika
- C. utemeljeno Kraljevsko vijeće za Dalmaciju, Hrvatsku i Slavoniju \implies rat za austrijsko nasljedstvo \implies donesen Patent o vjerskoj snošljivosti \implies ukinuta Mletačka Republika
- D. donesen Patent o vjerskoj snošljivosti \implies rat za austrijsko nasljedstvo \implies utemeljeno Kraljevsko vijeće za Dalmaciju, Hrvatsku i Slavoniju \implies ukinuta Mletačka Republika

25. Zaokružite slovo ispred točnog kronološkog slijeda navedenih događaja.

1	
---	--

- A. Građanski zakonik \implies Povelja o pravima \implies Pragmatička sankcija \implies Ustav SAD-a
B. Ustav SAD-a \implies Povelja o pravima \implies Pragmatička sankcija \implies Građanski zakonik
C. Povelja o pravima \implies Pragmatička sankcija \implies Ustav SAD-a \implies Građanski zakonik
D. Pragmatička sankcija \implies Ustav SAD-a \implies Građanski zakonik \implies Povelja o pravima

V. Sljedeće zadatke riješite uz pomoć izvornoga povijesnog teksta.

26. „Na kamenim pločama bolnica i crkava u Castiglioneu leže jedni uz druge bolesnici svih narodnosti: Francuzi i Arapi, Nijemci i Slaveni. Polazu ih gdje ima mjesta. Oni više nemaju snage za kretanje, a na tijesnom se prostoru ne mogu ni micati. Psovke, kletve i bolni krikovi,(...) „Ah, gospodine, koliko patim“, rekao mi je jedan od ovih nesretnika, „puštaju nas same, puštaju nas da jedno umiremo, a mi smo se hrabro borili!“ Trpe strašne muke, provode noći bez sna, a ipak ne nalaze mira. Očajno dozivaju liječnika, bacaju se u grčevima dok ih konačno ne spasi ukočenje ili smrt.“

A. Tko je (ime i prezime) autor gore navedenih rečenica?

1	
---	--

B. Kako se nazivala bitka čije su posljedice dijelom opisane u navedenom tekstu?

1	
---	--

C. Kako se nazivala organizacija koja je osnovana potaknuta osobnim iskustvom autora u posljedicama bitke?_____

1	
---	--

27. „On je jedan od ljudi koji su rođeni u uniformi. Krajiško dijete i pjesnik. Voli svoj narod i cijelo Slavenstvo. (...) Njegov život iz doba kada je bio pukovnik, uzoran je s moralnih gledišta – krajišnici nikada nisu imali boljeg pukovnika. No, kao zapovjednik u borbi ima malo vojničke mudrosti – dobar je vojnik pod zapovjedništvom drugih. Njegova privrženost ... datira od trenutka njegova izdignuća ...“

A. Tko je (ime i prezime) osoba koju opisuju gore navedene rečenice?

1	
---	--

B. Zapovjednik koje pukovnije je bila gore opisana osoba?

1	
---	--

C. Čijoj politici je gore opisana osoba bila odana u svom vojničkom djelovanju?

1	
---	--

28. „...bio je nećak velikog Napoleona Bonapartea. U kaotičnim zbivanjima 1848. godine... uspio se ugurati u francusku Nacionalnu skupštinu. Potom se kandidirao za predsjednika... i a to je mjesto izabran velikom većinom glasova. (...) Uvjerio je Francuze da mu referendumom dodijele diktatorske ovlasti, a ... postao je carem ... (...) Njegove pustolovine u vanjskoj politici nisu bile vrlo uspješne... Objavio je rat ..., no ... su ga ubrzo porazili i zarobili. Njegov režim je propao.“

A. Tko je (ime i prezime) osoba koju opisuju gore navedene rečenice?

1	
---	--

B. Za predsjednika koje *po redu* Republike je izabran većinom glasova?

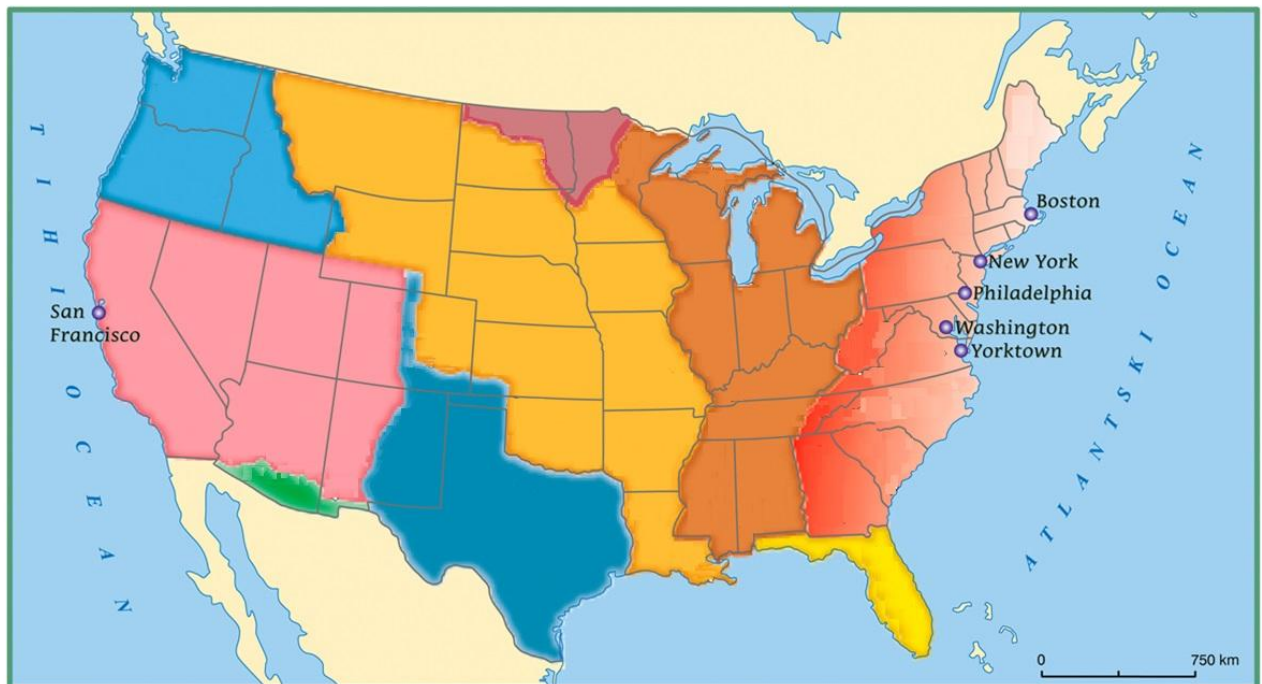
1	
---	--

C. Koja ga je država u bezuspješnom ratu porazila?

1	
---	--

VI. Sljedeće zadatke riješite na povijesnim zemljovidima.

29. Razvoj SAD-a



A) Vodoravnim (≡) crtama u potpunosti označi područje prvih trinaest američkih država.

1	
---	--

B) Označi teritorij kojeg je Francuska prodala SAD-u podebljavanjem vanjskih granica.

1	
---	--

C) Zaokruži naziv grada u kojem je proglašena Deklaracija neovisnosti.

1	
---	--

30. Njemačka prije ujedinjenja



A) Okomitim (III) crtama u potpunosti označi područje Njemačkog saveza iz 1867. godine.

1	
---	--

B) Podertaj naziv grada u kojem je održan politički skup kao odgovor na mir u San Stefanu.

1	
---	--

C) Zaokruži naziv grada u kojem je osnovan Svenjemački parlament 1848. godine.

1	
---	--

31. Jugoistočna Europa nakon 1878. godine



A) U odgovarajući pravokutnik **upišite slovo A i naziv zemlje** od koje je odvojena Istočna Rumelija.

1	
---	--

B) U odgovarajući pravokutnik **upišite slovo B i naziv zemlje** koju je ujedinio Petar II. Petrović Njegoš.

1	
---	--

C) U odgovarajući pravokutnik **upišite slovo C i naziv zemlje** u kojoj je ustanak stanovništva doveo do velike istočne krize.

1	
---	--